

La resta

Objetivo: Desarrollar el dominio de la resta.

Indicaciones

- Repaso los pasos para la resta.
- Desarrollo los ejercicios.
- Socializo los resultados con el resto del grupo formando una ronda.
- Resuelvo dudas si las tengo.

- Tacho la cantidad que se resta, siguiendo el ejemplo. Escribo el resultado de la resta.



$$10 - 3 = \underline{\hspace{2cm}}$$



$$10 - 7 = \underline{\hspace{2cm}}$$



$$10 - 2 = \underline{\hspace{2cm}}$$



$$10 - 6 = \underline{\hspace{2cm}}$$



$$10 - 1 = \underline{\hspace{2cm}}$$



$$10 - 5 = \underline{\hspace{2cm}}$$



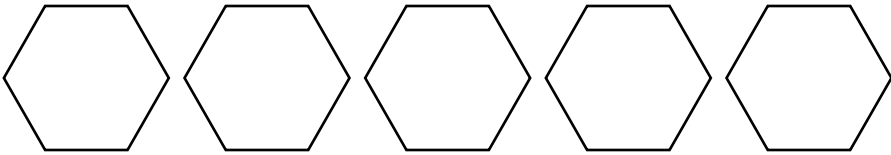
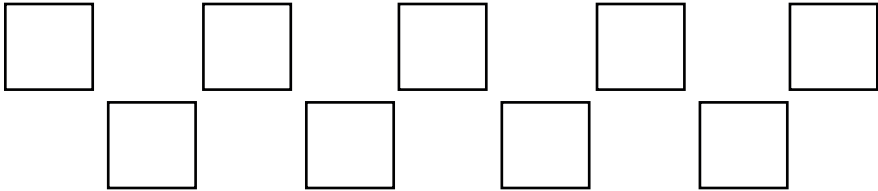
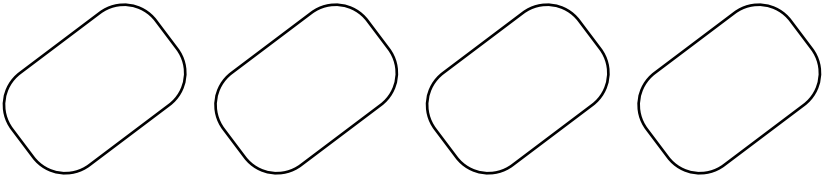
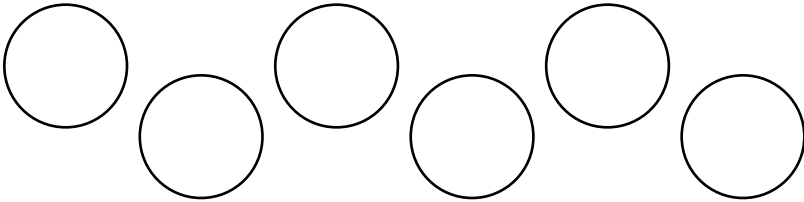
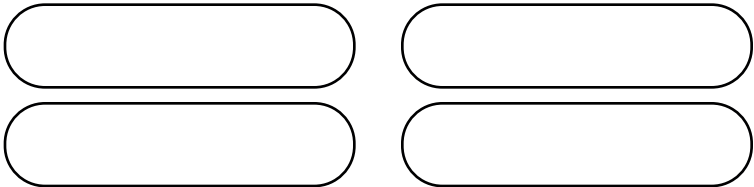
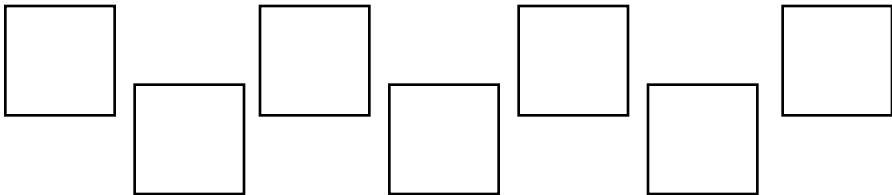


$$10 - 4 = \underline{\hspace{2cm}}$$



$$10 - 8 = \underline{\hspace{2cm}}$$

Coloreo la cantidad que se resta, siguiendo el ejemplo. Escribo el resultado de la resta.

	$6 - 3 = \bigcirc$
	$7 - 2 = \bigcirc$
	$5 - 4 = \bigcirc$
	$9 - 1 = \bigcirc$
	$4 - 2 = \bigcirc$
	$6 - 1 = \bigcirc$
	$4 - 3 = \bigcirc$
	$7 - 5 = \bigcirc$